

進学塾H2 学力診断テスト 小5

得点

学校名

学校

氏名

点

1 次の数を数字で書きなさい。

(1) 四十三億千三百六万八十五

4 計算をしなさい。

(1) $500 - (250 - 50)$

(2) 1兆を7こ、1万を423こあわせた数

(2) $35 + 48 \div 8 \times 3$

2 次の数を書きなさい。

(1) 80億を10倍した数

5 商は整数で求め、あまりも出さなさい。

(1) $52 \div 3$

(2) 4000億を10でわった数

(2) $528 \div 42$

3 次の数を四捨五入して、一万の位までのがい数にしなさい。

(1) 33534

6 計算をしなさい。

(1) $0.34 + 0.25$

(2) 95219

(2) $6.27 + 2.89$

7 計算をなさい。わり算は、わりきれぬまで計算
なさい。

(1) 4.8×7

(3) $\frac{9}{7} - \frac{4}{7}$

(2) 8.7×18

(4) $3\frac{3}{10} - \frac{6}{10}$

(3) $34.3 \div 7$

(4) $22.4 \div 32$

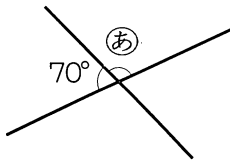
8 計算をなさい。

(1) $\frac{3}{5} + \frac{4}{5}$

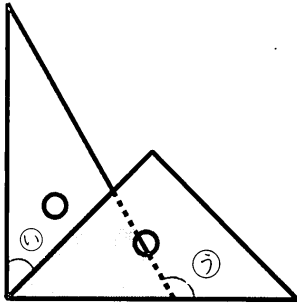
(2) $2\frac{7}{8} + 1\frac{4}{8}$

9 次の角度を計算で求めなさい。

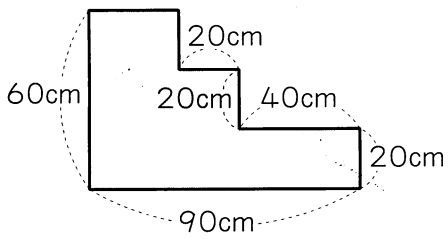
(1)



(2)



10 次のような形の面積を求めなさい。



11 次の文章題を解きなさい。

5年3組の人数は30人で、男子のほうが女子より4人多いそうです。5年1組の男子と女子はそれぞれ何人いますか。