

# 進学塾H2 学力診断テスト 小3

得点

学校名	小学校	氏名		点
-----	-----	----	--	---

1 つぎの計算をしましょう。

(1)  $26 + 41$

67

(2)  $35 + 55$

90

(3)  $78 + 46$

124

(4)  $83 + 19$

102

(5)  $37 - 13$

24

(6)  $60 - 39$

21

(7)  $158 - 79$

79

(8)  $134 - 86$

48

(9)  $3 \times 4$

12

(10)  $6 \times 9$

54

(11)  $4 \times 6$

24

(12)  $8 \times 7$

56

(13)  $9 \times 9$

81

2 次の数を書きましょう。

(1) 1000を2こ、100を4こ、1を9こあわせた数

2409

(2) 1000を5こ、10を7こあわせた数

5070

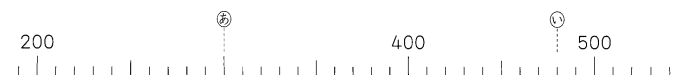
(3) 100を28こあつめた数

2800

(4) 9999より1大きい数

10000

3 つぎの数の線で、あ・いのめもりがあらわす数を書きましょう。



あ 300

い 480

4 つぎの時こくや時間をもとめましょう。

- (1) 午前9時から30分たった時こく  
午前・午後もかくこと

午前9時30分

- (2) 午後3時10分から午後4時までの時間

50分

5 □にあてはまる数を書きましょう。

- (1) 2時間=□分

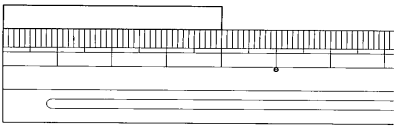
120

- (2) 3m=□cm

300

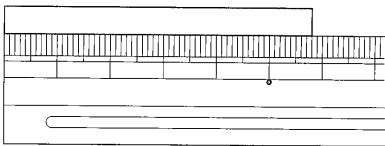
6 テープの長さはどれだけですか。(1点×2問)

(1)



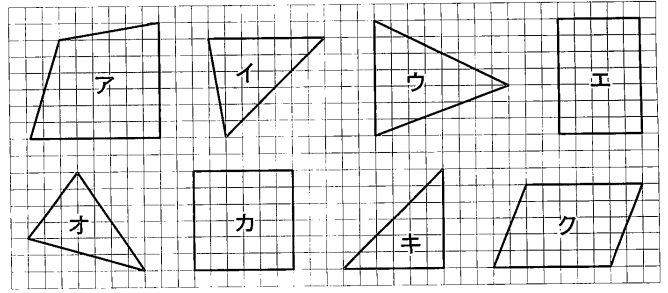
4cm(40mm)

(2)



5cm8mm(58mm)

7 下の図を見て、ア〜クで答えましょう。



- (1) 長方形はどれですか

エ

- (2) 正方形はどれですか

カ

8 つぎの問題を読んで答えましょう。

- (1) 色紙を、3まいずつ7人にくばります。  
ぜんぶで何まいいりますか。

21まい

- (2) かずやさんは、12円のあめと54円のキャラメルと18円のえんぴつを買いました。ぜんぶでいくらでしたか。

84円

- (3) あきかんを先月は275こ、今月は69こあつめました。先月は、今月より何こ多くあつめましたか。

206こ

- (4) 電車に14人の人がのっていました。つぎのえきで、何人かのってきたので、33人になりました。後からのってきた人は何人ですか。

19人