

# 進学塾H2 学力診断テスト 小3

得点

学校名	小学校	氏名		点
-----	-----	----	--	---

1 つぎの計算をしましょう。(2点×13問)

(1)  $26 + 41$

(2)  $35 + 55$

(3)  $78 + 46$

(4)  $83 + 19$

(5)  $37 - 13$

(6)  $60 - 39$

(7)  $158 - 79$

(8)  $134 - 86$

(9)  $3 \times 4$

(10)  $6 \times 9$

(11)  $4 \times 6$

(12)  $8 \times 7$

(13)  $9 \times 9$

2 次の数を書きましょう。(2点×4問)

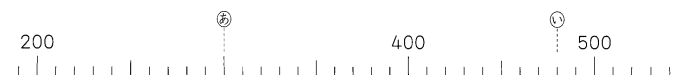
(1) 1000を2こ、100を4こ、1を9こあわせた数

(2) 1000を5こ、10を7こあわせた数

(3) 100を28こあつめた数

(4) 9999より1大きい数

3 つぎの数の線で、あ・いのめもりがあらわす数を書きましょう。(2点×2問)



あ

い

4 つぎの時こくや時間をもとめましょう。(1点×2問)

(1) 午前9時から30分たった時こく

(2) 午後3時10分から午後4時までの時間

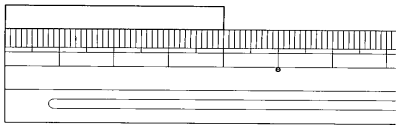
5 □にあてはまる数を書きましょう。(1点×2問)

(1) 2時間=□分

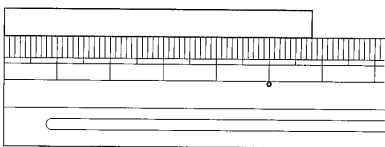
(2) 3m=□cm

6 テープの長さはどれだけですか。(1点×2問)

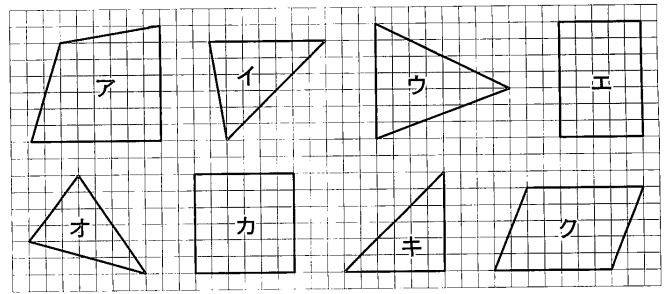
(1)



(2)



7 下の図を見て、ア〜クで答えましょう。(1点×2問)



(1) 長方形はどれですか

(2) 正方形はどれですか

8 つぎの問題を読んで答えましょう。(1点×4問)

(1) 色紙を、3まいずつ7人にくばります。  
ぜんぶで何まいいりますか。

(2) かずやさんは、12円のあめと54円のキャラメルと18円のえんぴつを買いました。ぜんぶでいくらでしたか。

(3) あきかんを先月は275こ、今月は69こあつめました。先月は、今月より何こ多くあつめましたか。

(4) 電車に14人の人がのっていました。つぎのえきで、何人かのってきたので、33人になりました。後からのってきた人は何人ですか。